


**Evaluación Regional de Aprendizajes
ERA 2023**

Matemática



Primaria

DATOS DEL ESTUDIANTE

Nombres:

Apellidos:

Sección :

Fecha:

Institución Educativa N°:

Indicaciones

Estimado (a) examinador (a): Ud. debe leer al niño (a) las consignas y preguntas de la prueba y orientar que marquen con una X sus respuestas en la prueba.


1 ¿En qué frasco hay pocos caramelos?

Marca con X tu respuesta.

a



b



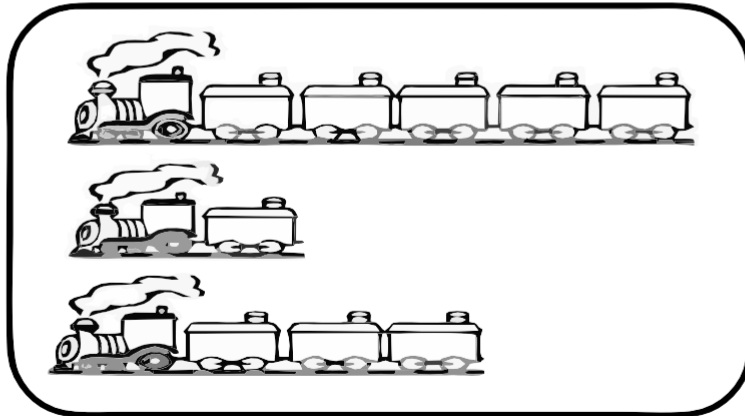
c



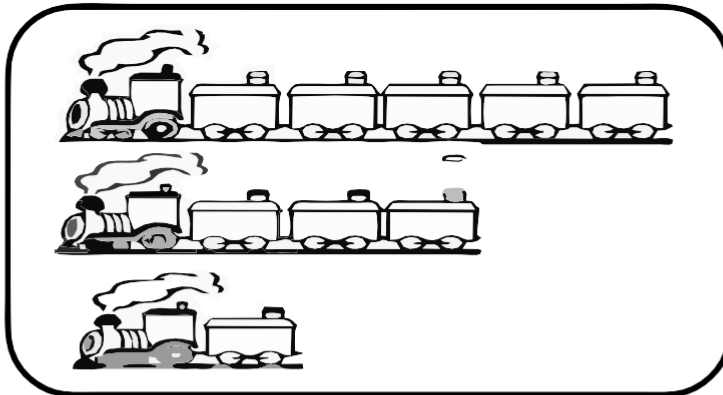
2 ¿Qué grupo de trenes está ordenado del más corto al más largo?

Marca con X tu respuesta.


a




b



c



3 Observa las manzanas que hay en el árbol.



¿En qué grupo la cantidad de pelotas es la misma que la cantidad de manzanas que hay en el árbol?

Marca con X tu respuesta.

a




b




c



4 José tiene cinco juguetes:



Y su papá le regala nueve juguetes.

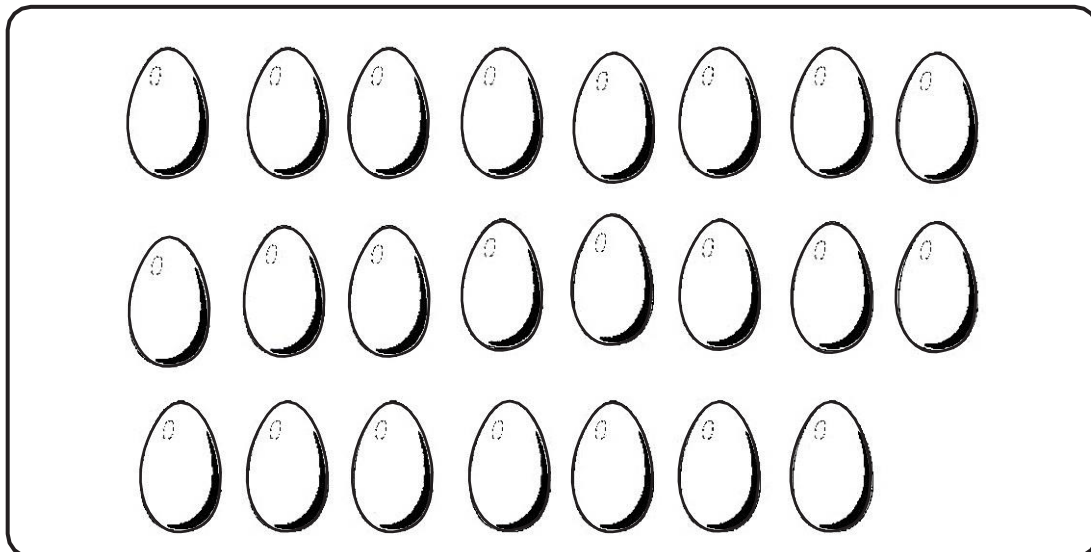
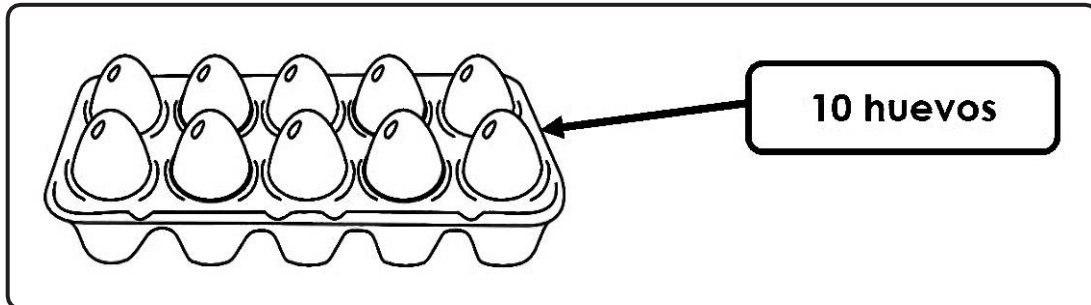


Ahora, ¿Cuántos juguetes tiene José?

Marca con X tu respuesta.

- a 9 juguetes.
- b 5 juguetes.
- c 14 juguetes.

- 5 María debe guardar los huevos en cajas de 10 huevos en cada caja. Observa

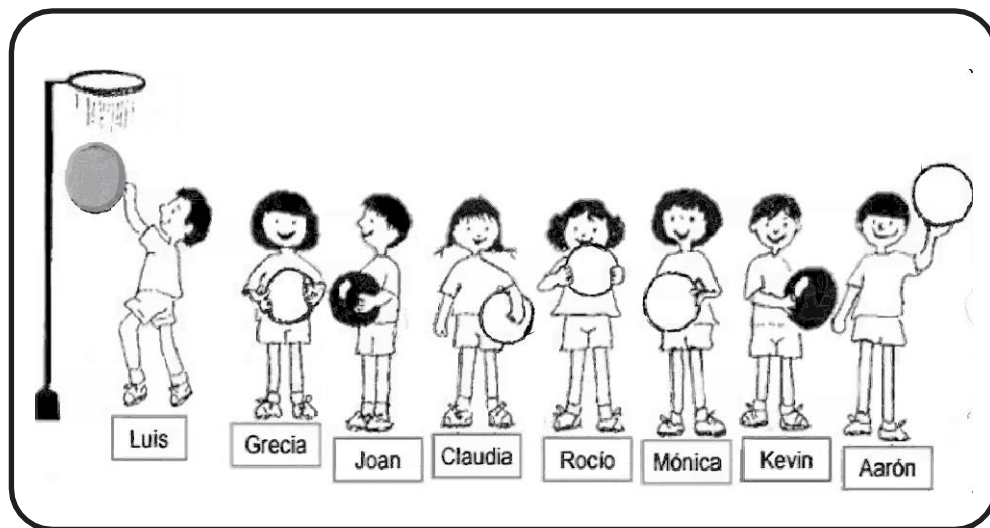


¿Cuántas cajas necesitará para guardar los huevos?

Marca con X tu respuesta.

- a 2 cajas.
- b 3 cajas.
- c 4 cajas.

6 Un grupo de niños y niñas juegan a lanzar el balón.



Quién lanzará el balón en cuarto lugar.


Marca con X tu respuesta.

- a Joan.
- b Mónica.
- c Claudia.

7 Pablo compra 18 panes y reparte 6.
¿Cuántos panes quedan?

Marca con X tu respuesta.

- a 2 panes.
- b 12 panes.
- c 24 panes.



8


Observa las canicas



y trompos



que tiene Ángel.




¿Cuál de las afirmaciones es correcta?

Marca con X tu respuesta.

- a Hay **mayor** cantidad de canicas.
- b Hay **mayor** cantidad de trompos.
- c Hay **igual** cantidad de canicas y trompos.

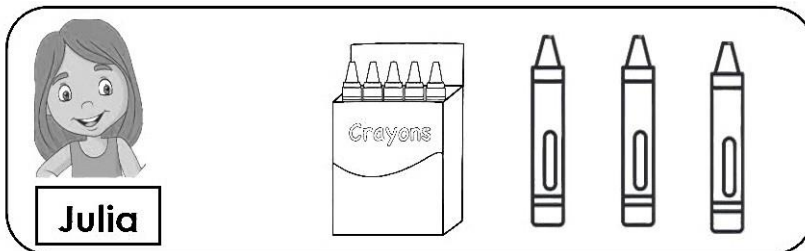
9 María tiene la siguiente cantidad de crayolas.
Observa.



¿Quién tiene la misma cantidad de crayolas que María?

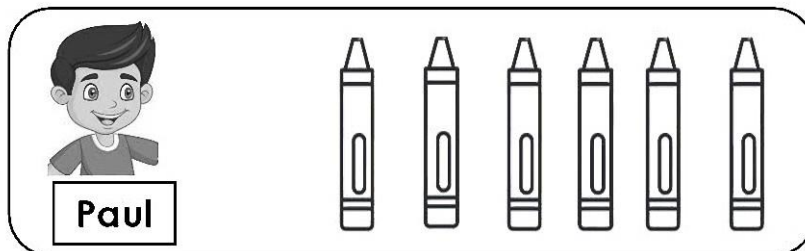
Marca con X tu respuesta.

a



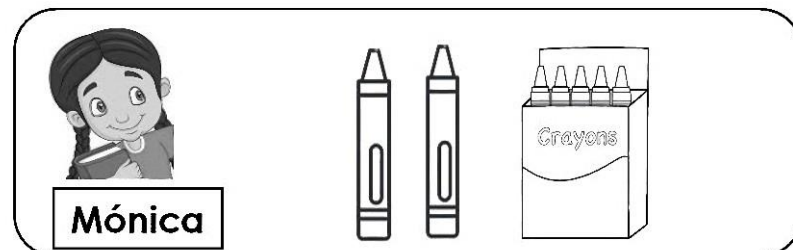
Julia

b



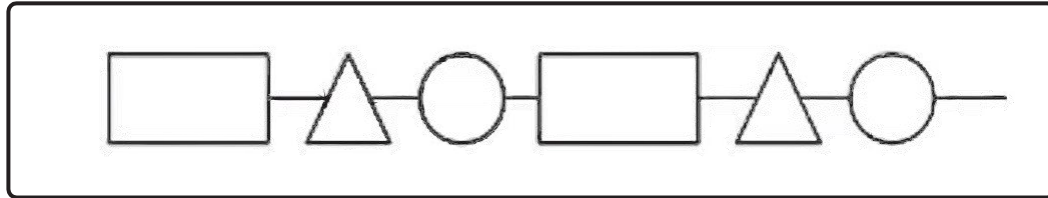
Paul

c



Mónica

10 Juana está haciendo un collar para su amiga, siguiendo un patrón. Observa.

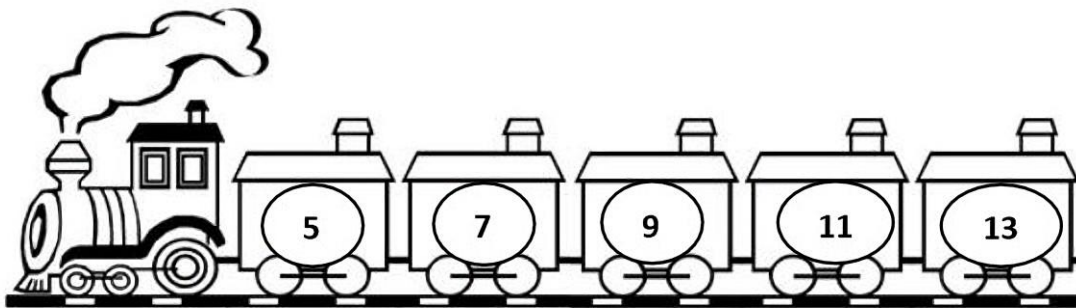


¿Cuál es la figura que sigue?

Marca con X tu respuesta.



11 Observa el patrón de números en el tren:



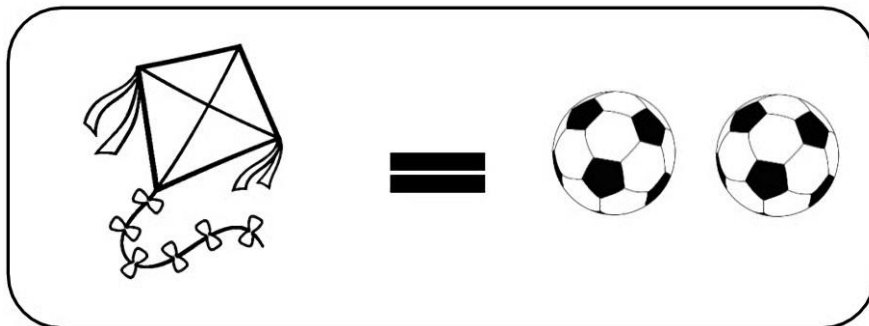
Marca con X tu respuesta.

a Aumenta de 1 en 1.

b Aumenta de 2 en 2.

c Aumenta de 3 en 3.

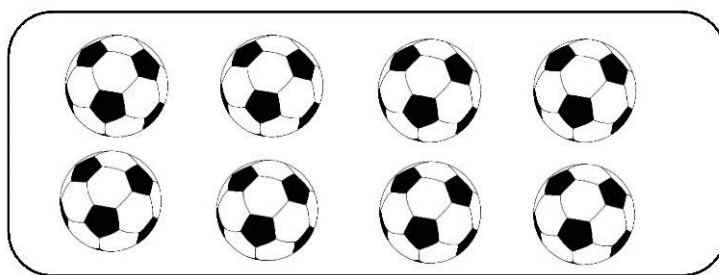
12 Si una cometa vale 2 pelotas.



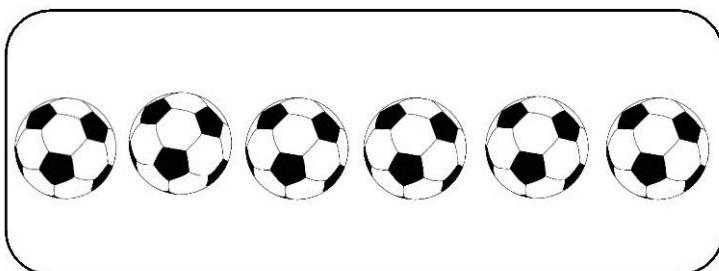
¿Cuántas pelotas necesito para tener tres cometas?

Marca con X tu respuesta.

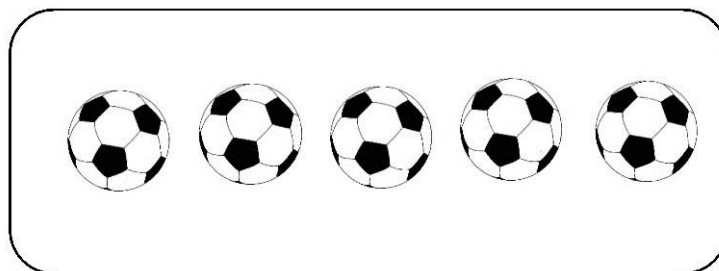
a



b

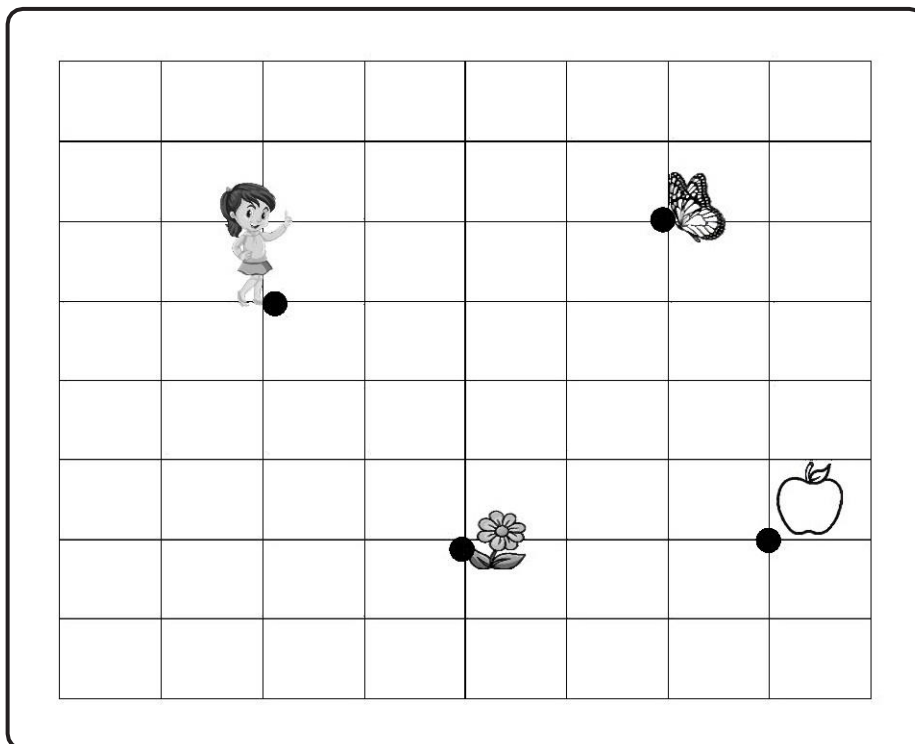


c



13 Marca con tu lápiz el siguiente recorrido en el mapa.

- Inicia del punto donde se encuentra la niña.
- Avanza tres cuadros hacia abajo.
- Después avanza 5 cuadros hacia la derecha.

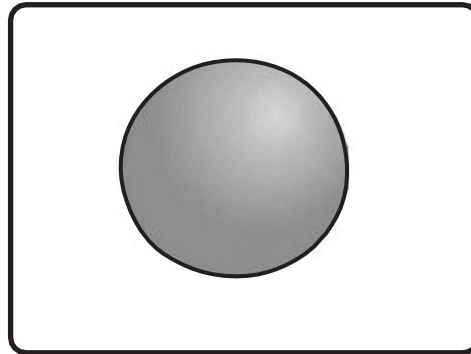


¿A qué lugar llegaste?

Marca con X tu respuesta.

- a A la flor.
- b A la mariposa.
- c A la manzana.

14 Mira con atención la forma geométrica de una esfera.



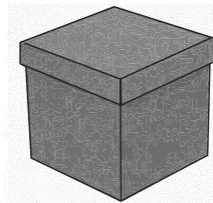
¿Cuál de los siguientes objetos tiene la forma de esfera?

Marca con X tu respuesta.

a



b



c



15 Marca con una X el pincel que es más corto que el lápiz.

